

# MATHS A LA FERME

$$\text{cow} + \text{cow} + \text{cow} = \text{duck}$$






$$\text{cow} + \text{rabbit} = \text{duck}$$

$$\text{rabbit} + \text{rabbit} + \text{cow} = \text{chicken}$$

$$\text{duck} + \text{cow} = \text{pig}$$

Trouve la valeur de chaque animal pour que les opérations soient justes.

Pour t'aider, un des nombres est déjà codé.

				
3				